

الديوان الوطني للتعليم و التكوين عن بعد		وزارة التربية الوطنية	
مادة : التاريخ و الجغرافيا		السلسلة 16	
		المستوى : 3 ثانوي	
		الشعبة : آ.ع.إ + ع.ش	

أجب على سؤالين من الأسئلة التالية على أن يكون واحدا في التاريخ والآخر في الجغرافيا

أولا: التاريخ

الموضوع الأول:

قال ونستون شرشل معلقا على قرارات مؤتمر ميونيخ 1938: [كان على الحلفاء في المؤتمر المذكور الخيار بين أمرين الحرب أو الخزي، فاختاروا الخزي لتلافي الحرب لكنهما تحملا بمرارة الخزي و العار و عجلا باندلاع الحرب العالمية الثانية].

المطلوب: في مقال تاريخي بين:

- 1- الأطراف المشاركة في المؤتمر.
- 2- عوامل اتخاذ الحلفاء للموقف المعروف في المؤتمر.

الموضوع الثاني:

قال الجنرال ديغول في مذكراته (الأمل: [إنما رأيت به بأم عيني و ما سمعته بأذني خلال زيارتي للجزائر في 11 \ 12 \ 1960 ترك لدي انطبعا واضحا عن حقيقة وضع الجزائر عندما يمزق التصويت على حق تقرير المصير آخر ستار قاتم...]

المطلوب: حلل النص مبينا:

- 1- التعريف بصاحب الوثيقة، طبيعة الوثيقة، الإطار الزمني و المكاني لها.
- 2- أسباب مظاهرات 11 ديسمبر 1960 .

الموضوع الثالث:

تعتبر فترة 1985-1991 ((ثورة حقيقية)) عاشها الاتحاد السوفياتي، غيرت كل موازين القوى العالمية، فمثلا كانت سنة 1917 نقطة تحول بارزة و منعطفا تاريخيا حاسما في العلاقات بين الشرق و الغرب، كانت هذه الفترة محطة فاصلة بين فترتين سابقتين. و شهدت النهاية الرسمية لما كان يسمى بالاتحاد السوفياتي فاتحة المجال لرابطة الدول المستقلة.

المطلوب: في مقال تاريخي بين:

- 1- مظاهر التصدع على المستويين الداخلي و الخارجي.
- 2- على الخريطة المرفقة عين الدول الأوروبية التي امتد إليها التصدع. شكل I

السلسلة 6ب	مادة : التاريخ و الجغرافيا
المستوى : 3 ثانوي	الشعبة : آ.ع.إ + ع.ش

ثانيا: الجغرافيا

الموضوع الأول:

إليك النسب المئوية التالية:

النوع	دول الشمال	دول الجنوب
السكان	%30	%70
الإنتاج الغذائي	%65	%35
المساهمة في الإنتاج الصناعي	%90	%10
المساهمة في التجارة العالمية	%70	%30
احتياطي البترول العالمي	%25	%75

المطلوب:

1- مثل هذه النسب المئوية بواسطة الأعمدة البيانية. (المقياس: 1 سم لكل 10 %)

2- بين عوامل القوة والضعف لكلا العالمين من خلال الجدول.

الموضوع الثاني:

رغم فقر اليابان من الثروات الطبيعية فقد تمكن من فرض وجوده و انتزاع مكانة مرموقة في الاقتصاد العالمي.

المطلوب: في مقال جغرافي حلل:

1- الظروف التاريخية، التركيز الصناعي و طبيعة المجتمع الياباني.

2- المظاهر التي تدل على المكانة المرموقة لليابان.

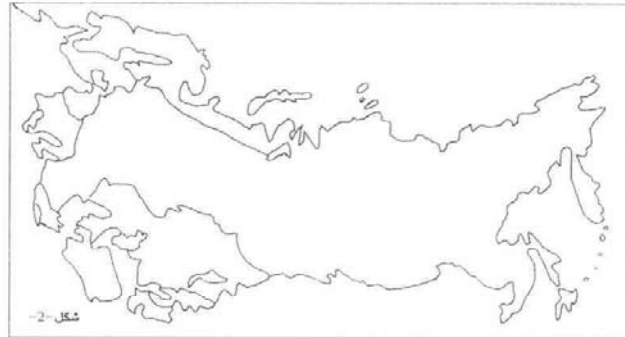
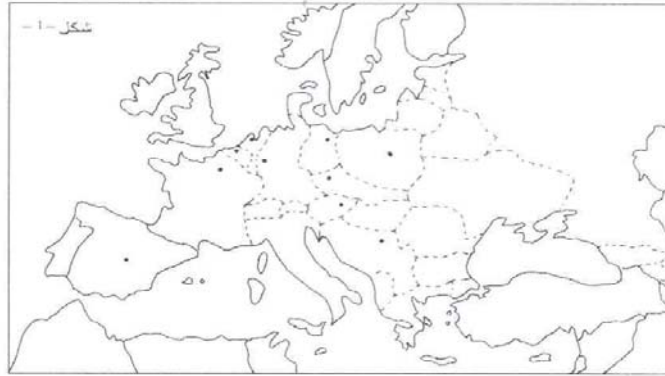
الموضوع الثالث:

إليك خريطة الأقاليم المناخية في روسيا. شكل 2

المطلوب:

1- ثبت عليها الأقاليم المعروفة في روسيا.

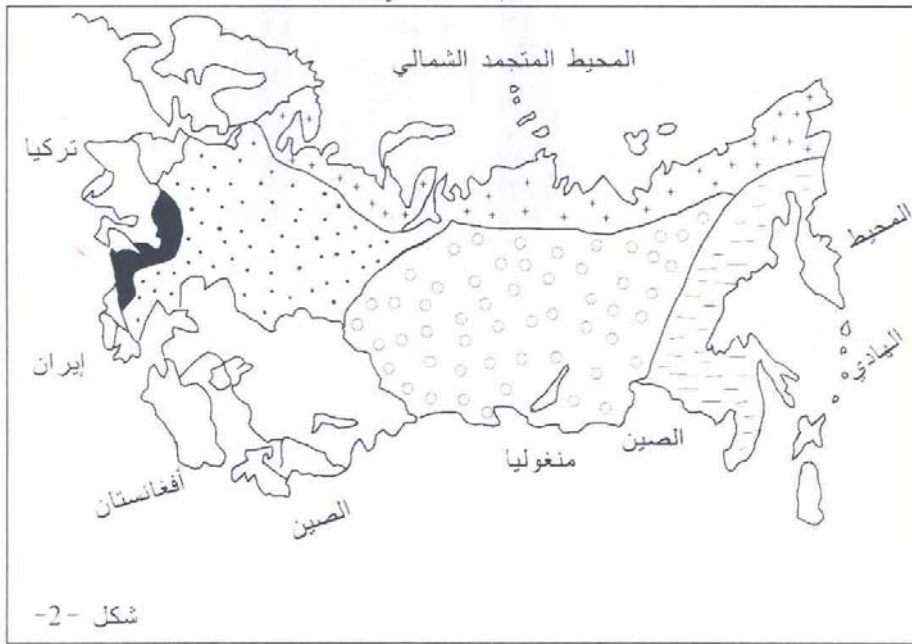
2- حلل تلك الأقاليم.



الدول الأوروبية التي إمتد إليها التصدع



الأقاليم المناخية في روسيا



مناخ متوسطي
 مناخ موسمي (محيطي)
 مناخ قاري بارد
 مناخ قاري معتدل
 مناخ قطبي

بعض معطيات دول الشمال و دول الجنوب

